

**UNIDAD 10: Límites de funciones. Continuidad**

**ACTIVIDADES-PÁG. 208**

1. Podemos decir lo siguiente:

a) Para esta función:

- $f(x)$  tiende a 1 cuando  $x$  tiende a  $-\infty$
- $f(x)$  tiende a  $+\infty$  cuando  $x$  tiende a  $-2$  por la izquierda
- $f(x)$  tiende a  $-\infty$  cuando  $x$  tiende a  $-2$  por la derecha
- $f(x)$  tiende a  $-\infty$  cuando  $x$  tiende a  $2$  por la izquierda
- $f(x)$  tiende a  $+\infty$  cuando  $x$  tiende a  $2$  por la derecha
- $f(x)$  tiende a 1 cuando  $x$  tiende a  $+\infty$ .

b) En este caso:

- $f(x)$  tiende a 0 cuando  $x$  tiende a  $-\infty$
- $f(x)$  tiende a  $+\infty$  cuando  $x$  tiende a  $+\infty$ .

c) Para esta gráfica:

- $f(x)$  tiende a 1 cuando  $x$  tiende a  $-\infty$
- $f(x)$  tiende a 1 cuando  $x$  tiende a  $+\infty$ .

d) Para esta función:

- $f(x)$  tiende a  $-\infty$  cuando  $x$  tiende a  $-\infty$
- $f(x)$  tiende a  $+\infty$  cuando  $x$  tiende a  $+\infty$ .

**ACTIVIDADES-PÁG. 227**

1. Designamos los colores por: rojo (R), verde (V), azul (Z) y amarillo (A). Las cuatro formas por: cuadrada (C), circular (O), triangular (T) y pentagonal (P).

Por ensayo y error colocamos las fichas en un tablero 4x4, cumpliendo las condiciones que indica el enunciado y obtenemos una solución:

RC	VO	ZT	AP
ZP	AT	RO	VC
AO	ZC	VP	RT
VT	RP	AC	ZO

Podemos encontrar hasta 72 soluciones distintas.

2. El número total de amanitas ha de ser múltiplo de 9 menos 1, es decir, 8 amanitas.

Resolviendo el problema mediante ecuaciones obtenemos:

$$\frac{8}{9}x + \frac{8}{9} = x \Rightarrow x = 8 \text{ amanitas}$$

3. El enunciado del problema nos muestra que el número de latas de zumo debe ser un número impar. Por ensayo y error obtenemos:

Hay 7 latas de zumo.

El primer amigo se bebe  $7/2 + 0,5 = 4$  latas. Quedan 3 latas.

El segundo amigo se bebe  $3/2 + 0,5 = 2$  latas. Quedan 1 lata.

El dueño de la casa se bebe  $1/2 + 0,5 = 1$  lata.

Luego, efectivamente había 7 latas de zumo.

Este problema se puede resolver también mediante ecuaciones.

4. Sea  $n$  un número real. Veamos si  $n^2 \cdot (n^2 - 1) = 12$

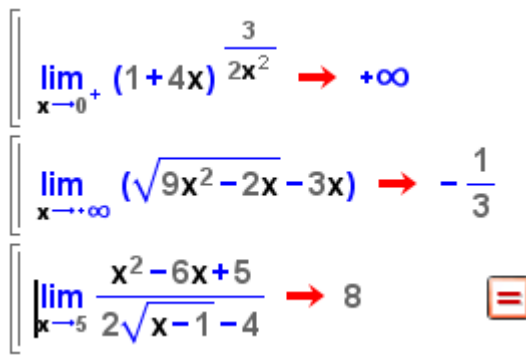
Como  $n^2 \cdot (n^2 - 1) = n \cdot n \cdot (n - 1) \cdot (n + 1)$ , entonces:

- $n \cdot (n - 1) \cdot (n + 1) = 3$ , pues es producto de tres números consecutivos.
- Si  $n = 3$ , entonces  $n - 1 = 2$  y  $n + 1 = 2$ . Por tanto  $n \cdot n \cdot (n - 1) \cdot (n + 1) = 3 \cdot 2 \cdot 2 = 12$
- Si  $n - 1 = 3$ , entonces  $n = 2$ . Por tanto  $n \cdot (n - 1) \cdot (n + 1) = 3 \cdot 2 \cdot 2 = 12$
- Si  $n + 1 = 3$ , entonces  $n = 2$ . Por tanto  $n \cdot (n - 1) \cdot (n + 1) = 3 \cdot 2 \cdot 2 = 12$

En cualquier caso se verifica que  $n^2 \cdot (n^2 - 1) = 12$

### ACTIVIDADES-PÁG. 229

1. En la imagen tenemos la resolución, con Wiris, de estos límites.



$$\lim_{x \rightarrow 0^+} (1+4x)^{\frac{3}{2x^2}} \rightarrow +\infty$$

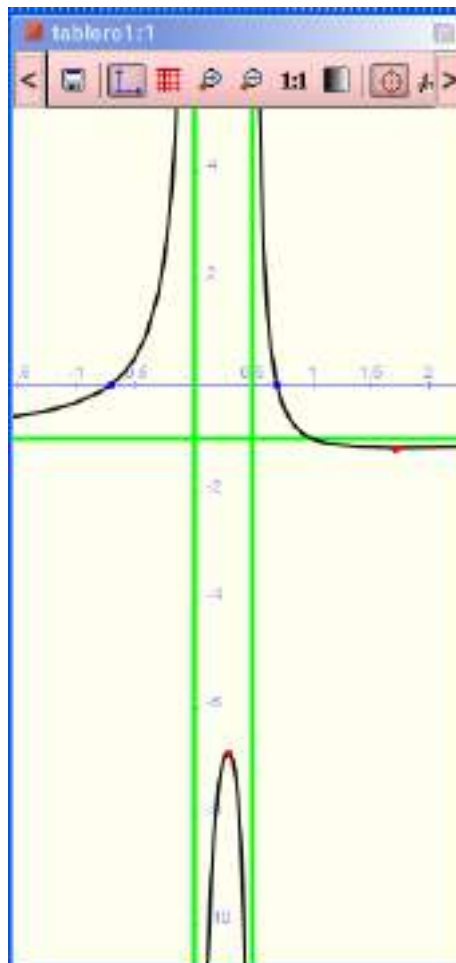
$$\lim_{x \rightarrow \infty} (\sqrt{9x^2-2x}-3x) \rightarrow -\frac{1}{3}$$

$$\lim_{x \rightarrow 5} \frac{x^2-6x+5}{2\sqrt{x-1}-4} \rightarrow 8$$

2. Con Wiris representamos la función y vemos en la gráfica que tiene dos asíntotas verticales de ecuaciones  $x = 0$ ;  $x = 0,5$  y una asíntota horizontal de ecuación  $y = -1$ .

En la misma gráfica estudiamos la continuidad y esta función es continua en  $\mathbb{R} - \{0; 0,5\}$

$$\left[ \begin{array}{l} f(x) := \frac{1-2 \cdot x^2}{2 \cdot x^2-x} \rightarrow x \mapsto \frac{1-2 \cdot x^2}{2 \cdot x^2-x} \\ \text{representar}(f(x), \{\text{asintota}=\{\text{color}=\text{verde}, \text{anchura\_línea}=3\}\}) \end{array} \right]$$

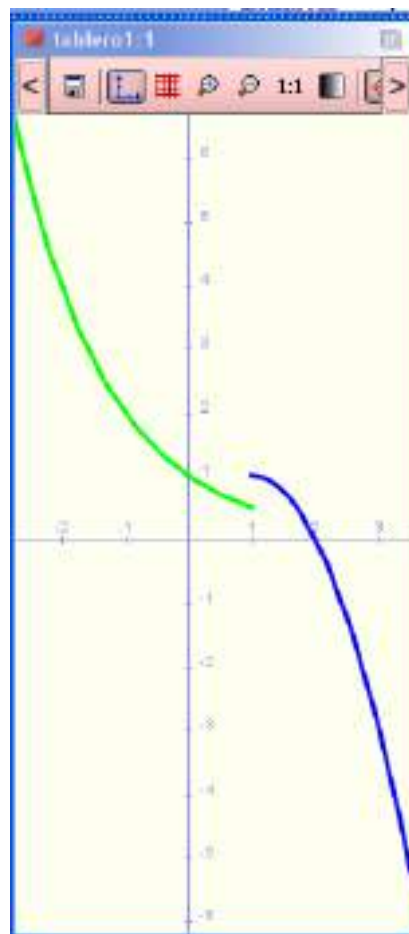


3. Representamos con Wiris estas dos funciones:

a) Esta es una función a trozos y hay que dibujar cada trozo en su intervalo, los dos dibujos dentro del mismo bloque.

```
dibujar(2 · x - x2, 1..+∞, {color=azul, anchura_línea=3}) → tablero1
dibujar(2-x, -∞..1, {color=verde, anchura_línea=3}) → tablero1
```

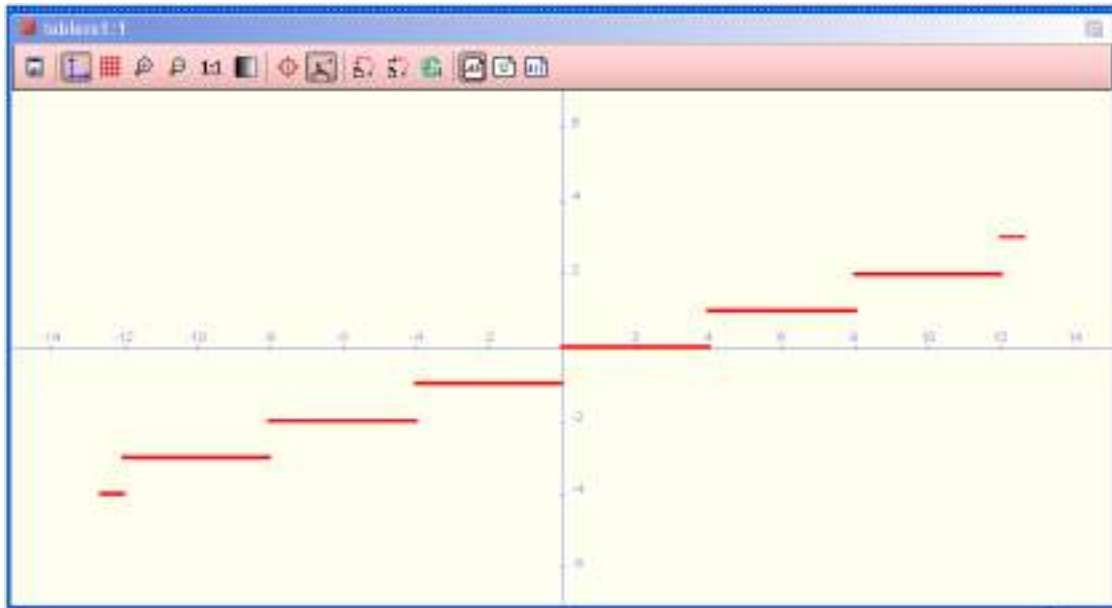
A partir de la gráfica vemos que esta función es continua en  $\mathbb{R} - \{1\}$



b) Para representar la parte entera se escribe `dibujar(suelo(x/4))`

La representamos y a partir de la gráfica vemos que es una función es continua en  $R - \{x = 4 \cdot k / k \in Z\}$ .

`dibujar(suelo( $\frac{x}{4}$ ), {color=rojo, anchura_linea=3}) → tablero1`



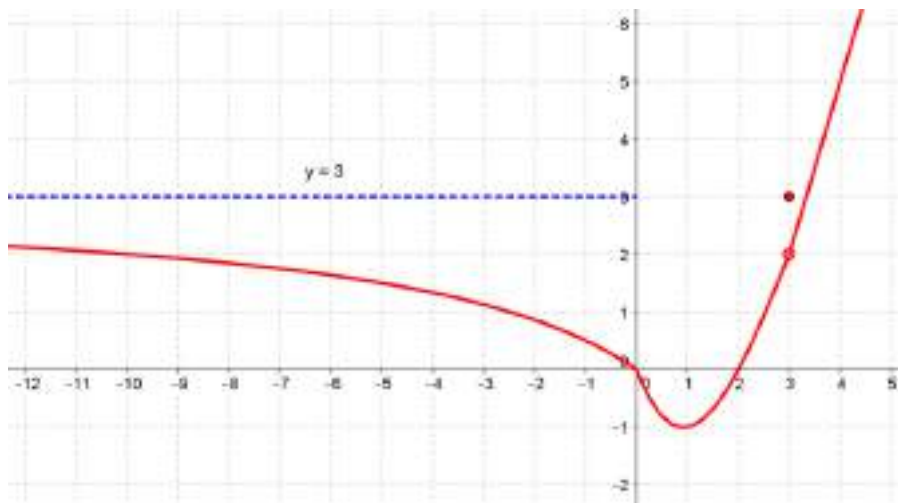
ACTIVIDADES-PÁG. 230

1. Las soluciones pueden verse en la tabla.

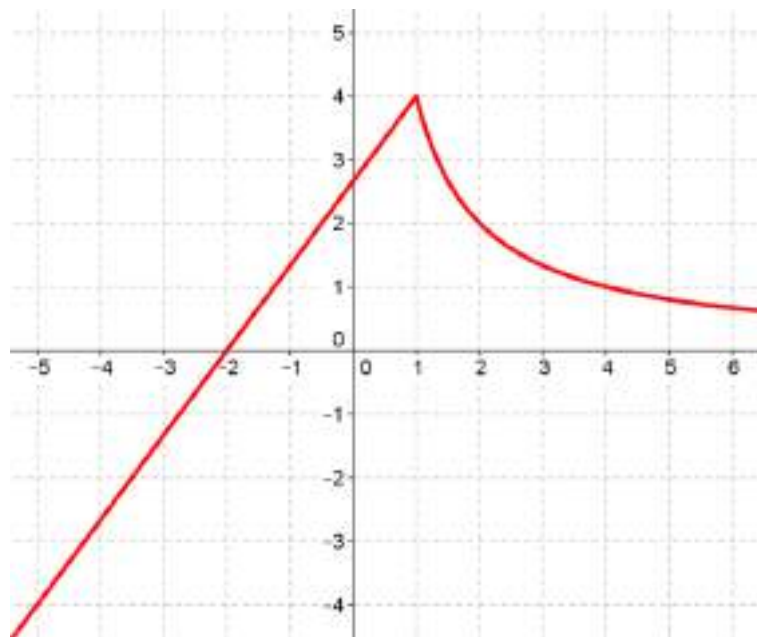
Apartados	Gráfica a)	Gráfica b)	Gráfica c)
a) Dom f	R	R	R
b) Im f	[0, 1)	R	[0, +∞)
c) f(0)	0	2	1
d) f(1)	0	2	0
e) $\lim_{x \rightarrow 0^-} f(x)$	1	1	1
f) $\lim_{x \rightarrow 0^+} f(x)$	0	1	1
g) $\lim_{x \rightarrow 0} f(x)$	No existe	1	1
h) $\lim_{x \rightarrow 1^-} f(x)$	1	2	0
i) $\lim_{x \rightarrow 1^+} f(x)$	0	2	2
j) $\lim_{x \rightarrow 1} f(x)$	No existe	2	No existe
k) $\lim_{x \rightarrow -\infty} f(x)$	No existe	$-\infty$	$+\infty$
l) $\lim_{x \rightarrow +\infty} f(x)$	No existe	$+\infty$	$+\infty$

2. Las gráficas pueden ser como las que siguen.

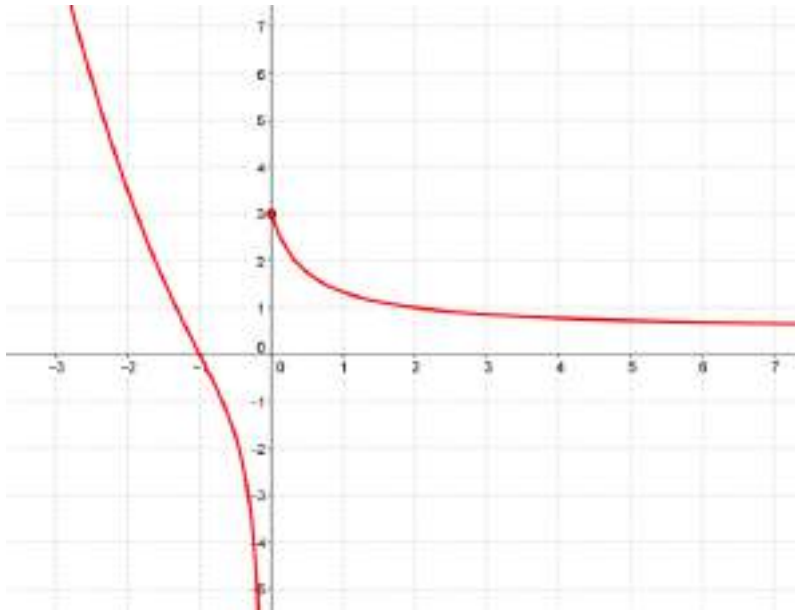
a)



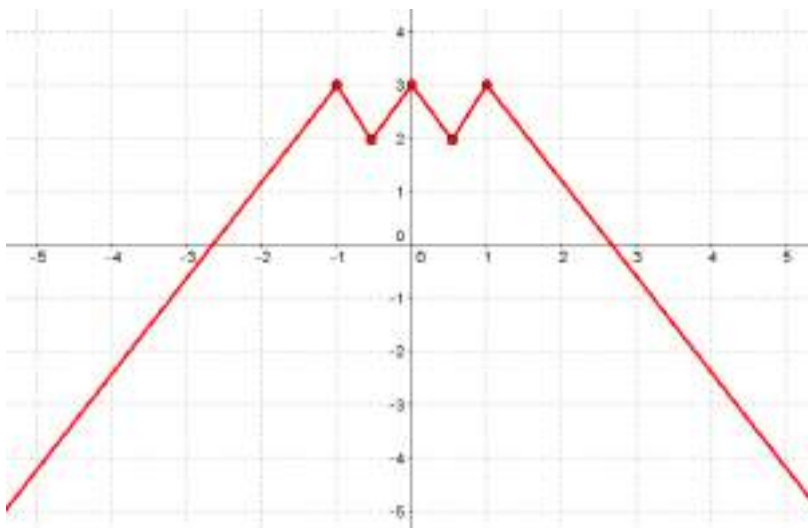
b)



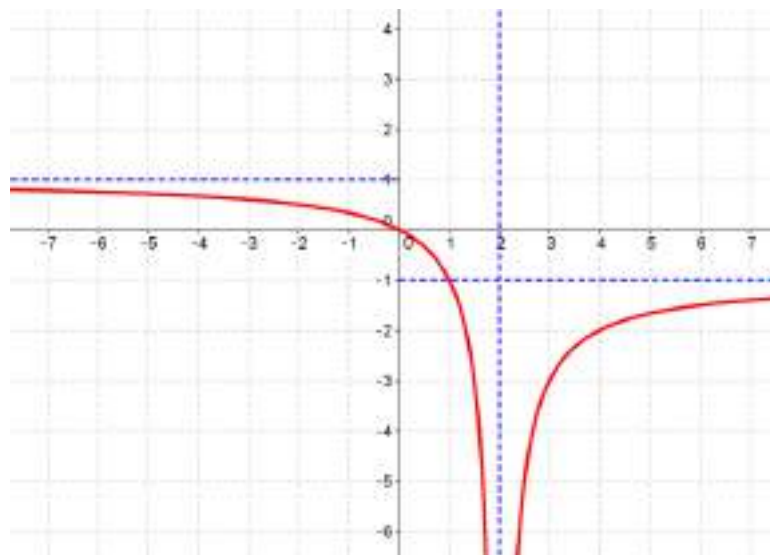
c)



d)



e)



3. La asociación es:

a) con (II)

b) con (III)

c) con (I)

**ACTIVIDADES-PÁG. 231**

4. Las soluciones son:

a)  $\lim_{x \rightarrow -1^-} f(x) = -\infty$

h)  $\lim_{x \rightarrow -1^-} g(x) = 1$

b)  $\lim_{x \rightarrow -1^+} f(x) = +\infty$

i)  $\lim_{x \rightarrow -1^+} g(x)$  no existe

c)  $\lim_{x \rightarrow -1} f(x)$  no existe

j)  $\lim_{x \rightarrow -\infty} g(x) = +\infty$

d) Asíntotas horizontales:  $y = 0$   
Asíntotas verticales:  $x = -1$

k) Asíntotas horizontales:  $y = 0$   
Asíntotas verticales:  $x = -1$

e)  $\lim_{x \rightarrow -\infty} f(x) = 0$

l)  $\lim_{x \rightarrow 1^-} g(x)$  no existe

f)  $\lim_{x \rightarrow +\infty} f(x) = 0$

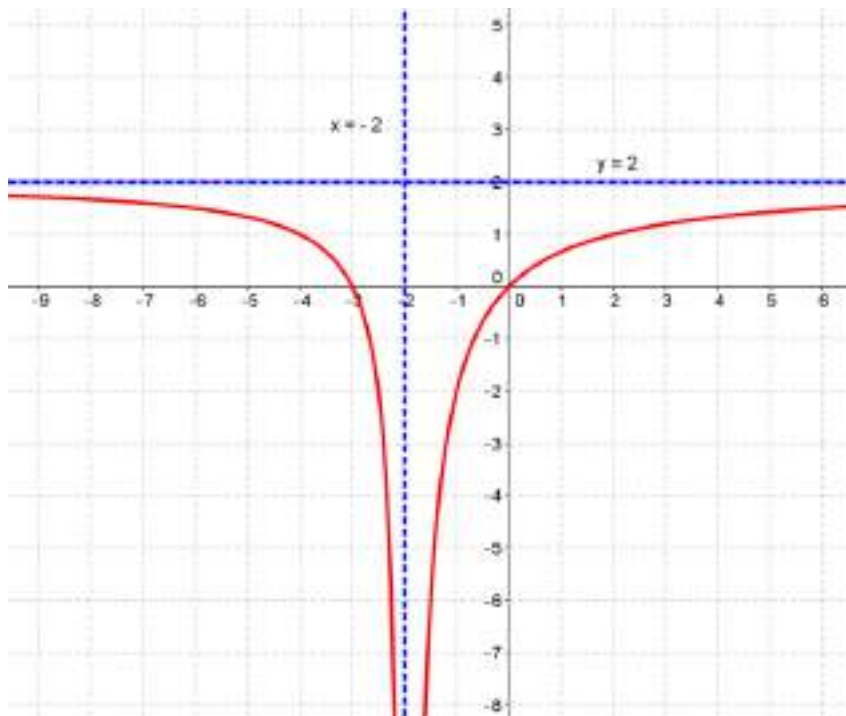
m)  $\lim_{x \rightarrow 1^+} g(x) = -1$

g)  $\lim_{x \rightarrow 0} f(x) = 0$

n)  $\lim_{x \rightarrow +\infty} g(x) = 0$

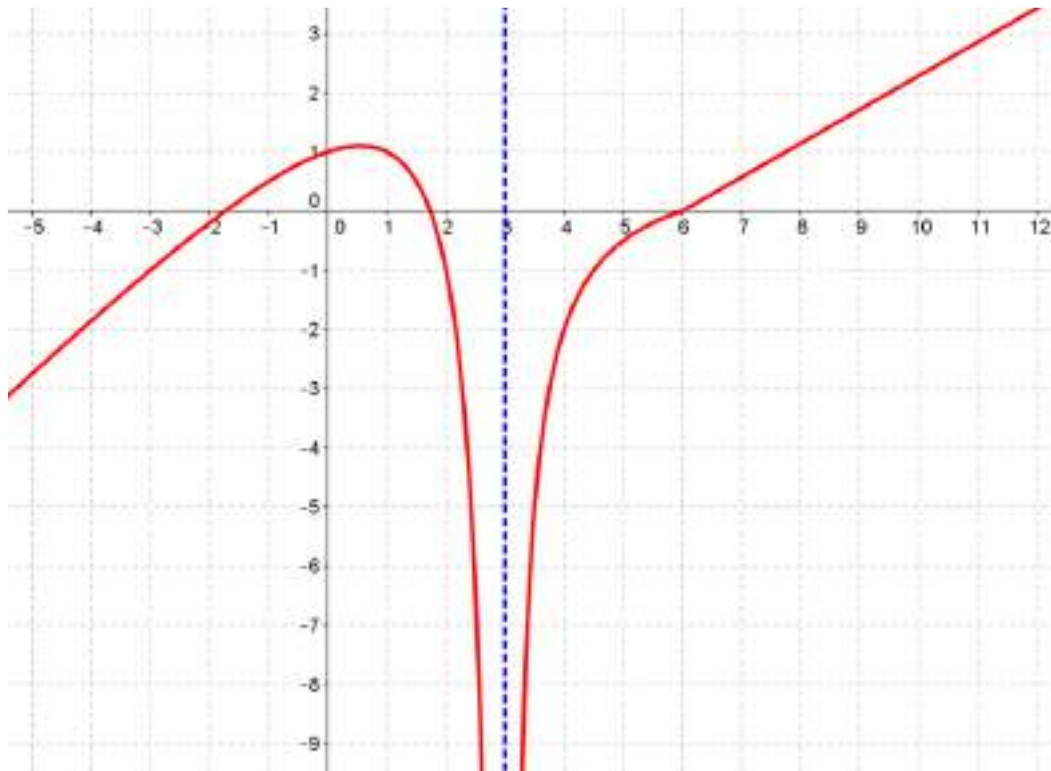
5. Las gráficas pueden verse a continuación:

a)

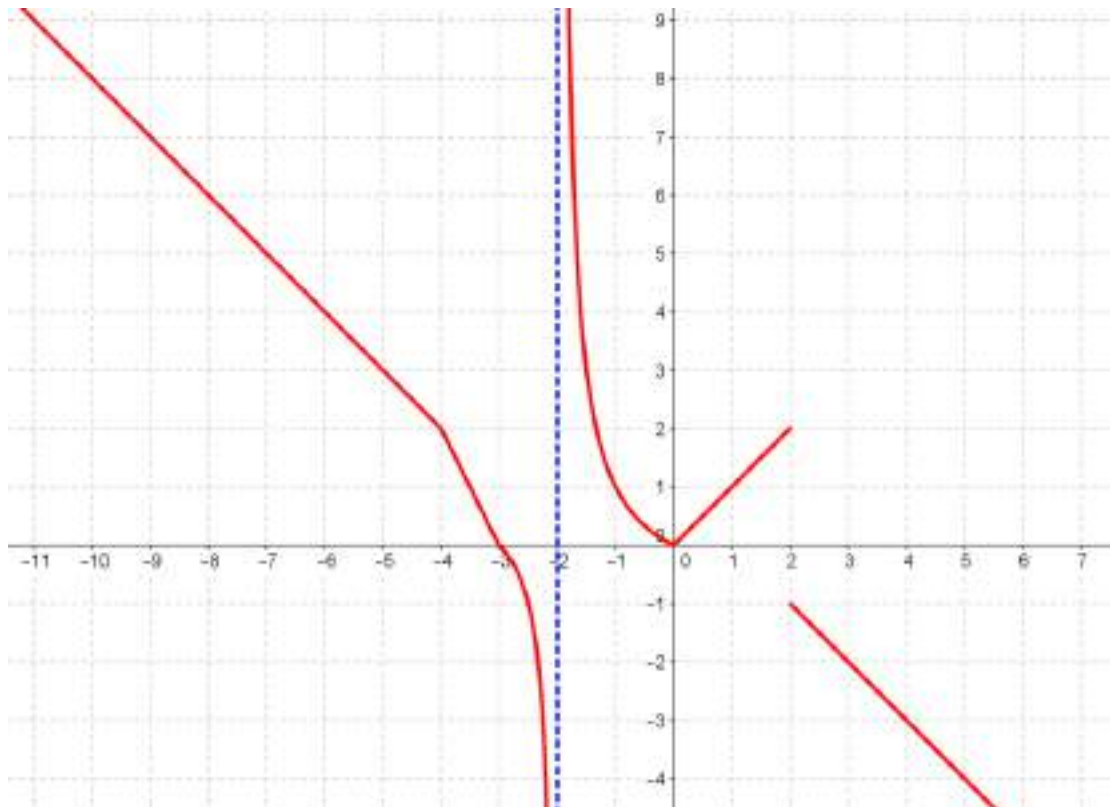




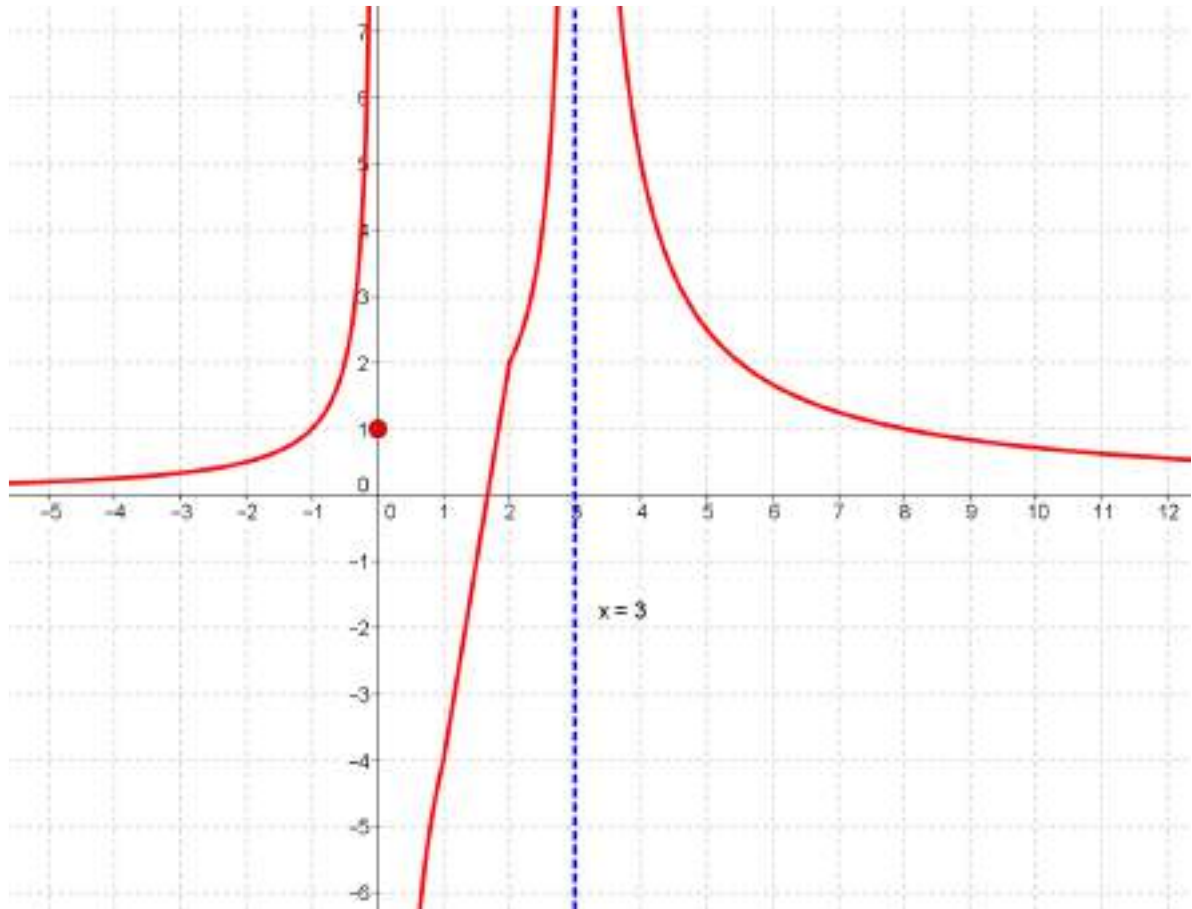
b)



c)



d)



6. Los valores de los límites son:

a)  $\lim_{x \rightarrow 0} 7 = 7$

i)  $\lim_{x \rightarrow -\infty} \frac{1}{x^{11}} = 0$

b)  $\lim_{x \rightarrow +\infty} x^{-3} = 0$

j)  $\lim_{x \rightarrow -1} x^4 = 1$

c)  $\lim_{x \rightarrow -2} \frac{1}{x^2} = \frac{1}{4}$

k)  $\lim_{x \rightarrow 0^-} x^{-5} = -\infty$

d)  $\lim_{x \rightarrow -\infty} x^5 = -\infty$

l)  $\lim_{x \rightarrow 0} \frac{1}{x^4} = +\infty$

e)  $\lim_{x \rightarrow -\infty} (-3) = -3$

m)  $\lim_{x \rightarrow 0^+} \frac{1}{x^3} = +\infty$

f)  $\lim_{x \rightarrow 0^+} \frac{1}{x^8} = +\infty$

n)  $\lim_{x \rightarrow 0^-} \frac{1}{x^3} = -\infty$

g)  $\lim_{x \rightarrow -\infty} \frac{1}{x^8} = 0$

o)  $\lim_{x \rightarrow -\infty} x^4 = +\infty$

h)  $\lim_{x \rightarrow 0^-} \frac{1}{x^8} = +\infty$

p)  $\lim_{x \rightarrow -1} x^3 = -1$

**ACTIVIDADES-PÁG. 232**

7. El valor de los límites es:

a)  $\lim_{x \rightarrow 2^-} f(x) = 1$

e)  $\lim_{x \rightarrow 4^+} f(x) = 2$

b)  $\lim_{x \rightarrow 2^+} f(x) = 1$

f)  $\lim_{x \rightarrow 4} f(x) = \text{no existe}$

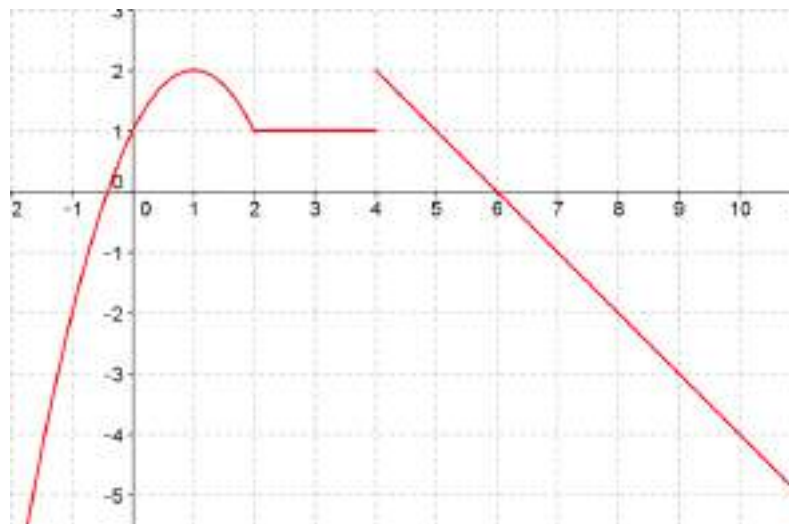
c)  $\lim_{x \rightarrow 2} f(x) = 1$

g)  $\lim_{x \rightarrow -\infty} f(x) = -\infty$

d)  $\lim_{x \rightarrow 4^-} f(x) = 1$

h)  $\lim_{x \rightarrow +\infty} f(x) = -\infty$

Todo lo anterior puede verse en la gráfica que sigue.



8. Los límites valen:

a)  $\lim_{x \rightarrow +\infty} (3x^2 + 5x - 2) = +\infty$

f)  $\lim_{x \rightarrow -\infty} \frac{5x^3 - 2x + 1}{6x^2 + 2x} = -\infty$

b)  $\lim_{x \rightarrow +\infty} (-x^3 + 5x - 4) = -\infty$

g)  $\lim_{x \rightarrow +\infty} \frac{\sqrt{x} + 3}{\sqrt{2x} - 5} = \frac{\sqrt{2}}{2}$

$$\begin{aligned}
 \text{c) } \lim_{x \rightarrow -\infty} (3x^3 - 6x^2 - 5) &= -\infty & \text{h) } \lim_{x \rightarrow -\infty} \frac{\sqrt[3]{x^3 + 4x^2 - 2}}{\sqrt[3]{8x^2 - 5x + 3}} &= -\infty \\
 \text{d) } \lim_{x \rightarrow -\infty} \frac{3}{2x^3 - 4x + 6} &= 0 & \text{i) } \lim_{x \rightarrow +\infty} \frac{\sqrt{4x^2 - 7}}{4x} &= \frac{1}{2} \\
 \text{e) } \lim_{x \rightarrow +\infty} \frac{3x^2 + 5x - 7}{-3x^2 - 3x + 4} &= -1
 \end{aligned}$$

9. Los límites valen:

$$\begin{aligned}
 \text{a) } \lim_{x \rightarrow 1} \frac{x^2 - 1}{x^3 - 4x^2 + 3x} &= -1 & \text{g) } \lim_{x \rightarrow 0} \frac{\sqrt{1-x} - 1}{x} &= -\frac{1}{2} \\
 \text{b) } \lim_{x \rightarrow 0} \frac{x^3 + 2x}{2x^3 + 3x^2 + 2x} &= 1 & \text{h) } \lim_{x \rightarrow 4} \frac{x-4}{\sqrt{x}-2} &= 4 \\
 \text{c) } \lim_{x \rightarrow 2} \frac{x^2 - 4}{5x^2 - 7x - 6} &= \frac{4}{13} & \text{i) } \lim_{x \rightarrow 2} \frac{\sqrt{x} - \sqrt{2}}{x^2 - 4} &= \frac{\sqrt{2}}{16} \\
 \text{d) } \lim_{x \rightarrow -1} \frac{x^4 - 1}{x^3 + 1} &= -\frac{4}{3} & \text{j) } \lim_{x \rightarrow 3} \frac{2 - \sqrt{7-x}}{4 - \sqrt{13+x}} &= -2 \\
 \text{e) } \lim_{x \rightarrow 0} \frac{x^5 - 3x^3}{x^3 + x^2} &= 0 & \text{k) } \lim_{x \rightarrow 2} \frac{\sqrt{2x} - 2}{\sqrt{x+2} - 2} &= 2 \\
 \text{f) } \lim_{x \rightarrow 3} \frac{x^2 - 5x + 6}{x^2 - 6x + 9} &\text{ no existe (los límites} & \text{l) } \lim_{x \rightarrow 0} \frac{x}{\sqrt{2+x} - \sqrt{2-x}} &= \sqrt{2} \\
 &\text{ laterales son diferentes)}
 \end{aligned}$$

10. Los límites son:

$$\begin{aligned}
 \text{a) } \lim_{x \rightarrow 2} \frac{x^2}{2x-4} &\text{ no existe, ya que: } \lim_{x \rightarrow 2^-} \frac{x^2}{2x-4} = -\infty \text{ y } \lim_{x \rightarrow 2^+} \frac{x^2}{2x-4} = +\infty \\
 \text{b) } \lim_{x \rightarrow 0} \frac{4-x}{x^2} &= +\infty \text{ ya que: } \lim_{x \rightarrow 0^-} \frac{4-x}{x^2} = +\infty \text{ y } \lim_{x \rightarrow 0^+} \frac{4-x}{x^2} = +\infty \\
 \text{c) } \lim_{x \rightarrow 1} \frac{x+5}{|x-3|} &= +\infty \text{ ya que } \lim_{x \rightarrow 3^-} \frac{x+5}{|x-3|} = +\infty \text{ y } \lim_{x \rightarrow 3^+} \frac{x+5}{|x-3|} = +\infty \\
 \text{d) } \lim_{x \rightarrow 0} \left( \frac{2}{x^3} \cdot \frac{x^2 + 2x}{3} \right) &[\infty \cdot 0] = \lim_{x \rightarrow 0} \frac{2(x^2 + 2x)}{3x^3} \left[ \frac{0}{0} \right] = \lim_{x \rightarrow 0} \frac{2x(x+2)}{3x^3} = +\infty
 \end{aligned}$$

$$e) \lim_{x \rightarrow +\infty} \left( \frac{4}{x+3} \cdot \sqrt{x^2+4} \right) [0 \cdot \infty] = \lim_{x \rightarrow +\infty} \frac{4\sqrt{x^2+4}}{x+3} \left[ \frac{\infty}{\infty} \right] = 4$$

$$f) \lim_{x \rightarrow 0} \left[ \frac{1}{x^2} \left( \frac{1}{x+2} - \frac{1}{x^2+2} \right) \right] [\infty \cdot 0] = \lim_{x \rightarrow 0} \frac{x^2 - x}{x^2(x+2)(x^2+2)} \left[ \frac{0}{0} \right] =$$

$$= \lim_{x \rightarrow 0} \frac{x(x-1)}{x^2(x+2)(x^2+2)} \text{ no existe, al ser los límites laterales:}$$

$$\lim_{x \rightarrow 0^-} \frac{x-1}{x(x+2)(x^2+2)} = +\infty \quad \text{y} \quad \lim_{x \rightarrow 0^+} \frac{x-1}{x(x+2)(x^2+2)} = -\infty$$

11. Los límites valen:

$$a) \lim_{x \rightarrow +\infty} \left( \sqrt{9x^2 - 4x - 1} - 3x \right) = -\frac{2}{3}$$

$$b) \lim_{x \rightarrow +\infty} \left[ \sqrt{x} \left( \sqrt{x} - \sqrt{x-2} \right) \right] = 1$$

$$c) \lim_{x \rightarrow -\infty} \left( \frac{x^2+3}{x} - \frac{x^2-1}{x} \right) = 0$$

### ACTIVIDADES-PÁG. 233

12. Los límites son:

a) Es una indeterminación del tipo  $1^\infty$ . El valor del límite es:

$$\lim_{x \rightarrow +\infty} \left( \frac{4x+2}{4x-3} \right)^{2x} = e^{\lim_{x \rightarrow +\infty} 2x \cdot \left( \frac{4x+2}{4x-3} - 1 \right)} = e^{\lim_{x \rightarrow +\infty} \frac{10x}{4x-3}} = e^{\frac{5}{2}}$$

b) Es una indeterminación del tipo  $1^\infty$ . El valor del límite es:

$$\lim_{x \rightarrow +\infty} \left( \frac{3x-7}{3x} \right)^{\frac{2x^2+1}{3x}} = e^{\lim_{x \rightarrow +\infty} \frac{2x^2+1}{3x} \cdot \left( \frac{3x-7}{3x} - 1 \right)} = e^{-\frac{14}{9}}$$

c) Es una indeterminación del tipo  $1^\infty$ . El valor del límite es:

$$\lim_{x \rightarrow +\infty} \left( 1 + \frac{2}{5x} \right)^{x^2} = e^{\lim_{x \rightarrow +\infty} x^2 \cdot \frac{2}{5x}} = e^{+\infty} = +\infty$$

d) El valor del límite es:

$$\lim_{x \rightarrow +\infty} \left( \frac{3+2x}{x-5} \right)^{3x} = 2^{+\infty} = +\infty$$

e) Es una indeterminación del tipo  $1^\infty$ . El valor del límite es:

$$\lim_{x \rightarrow 0} (1+3x)^{\frac{2}{x}} = e^{\lim_{x \rightarrow 0} \frac{2}{x} \cdot (1+3x-1)} = e^6$$

f) Es una indeterminación del tipo  $1^\infty$ . El valor del límite es:

$$\lim_{x \rightarrow +\infty} \left( \frac{5-3x}{4-3x} \right)^{x-3} = e^{\lim_{x \rightarrow +\infty} (x-3) \cdot \left( \frac{5-3x}{4-3x} - 1 \right)} = e^{\lim_{x \rightarrow +\infty} \frac{-x+3}{-3x+4}} = e^{-\frac{1}{3}} = \frac{1}{\sqrt[3]{e}}$$

**13.** Las soluciones son:

a) La función  $f(x) = \frac{3x-2}{6x+6}$  tiene dos asíntotas: vertical de ecuación  $x = -1$  y horizontal de ecuación  $y = 1/2$ .

b) La función  $f(x) = \frac{2}{x^2-x}$  tiene tres asíntotas: dos verticales de ecuaciones  $x = 1$  y  $x = 0$ ; y una horizontal de ecuación  $y = 0$ .

c) La función  $f(x) = \frac{x^2-1}{x}$  tiene dos asíntotas: vertical de ecuación  $x = 0$  y oblicua de ecuación  $y = x$ .

d) La función  $f(x) = \frac{3x}{x^2+4}$  tiene una asíntota horizontal de ecuación  $y = 0$ .

e) La función  $f(x) = \frac{(x-1)^2}{x+2}$  tiene dos asíntotas: vertical de ecuación  $x = -2$  y oblicua de ecuación  $y = x - 4$

f) La función  $f(x) = \frac{3x^2-2}{6x+6}$  tiene dos asíntotas: Vertical de ecuación  $x = -1$  y oblicua de ecuación  $y = \frac{1}{2}x - \frac{1}{2}$ .

**14.** A la vista de la gráfica podemos asegurar que:

a) La gráfica es continua para cualquier número real excepto para  $x = 0$ .

b) La gráfica es continua para cualquier número real excepto para  $x = 0$ .

c) La gráfica es continua para cualquier número real.

15. Los resultados son:

(I) a)  $\lim_{x \rightarrow 0^-} f(x) = 1$       e)  $f(0) = 3$

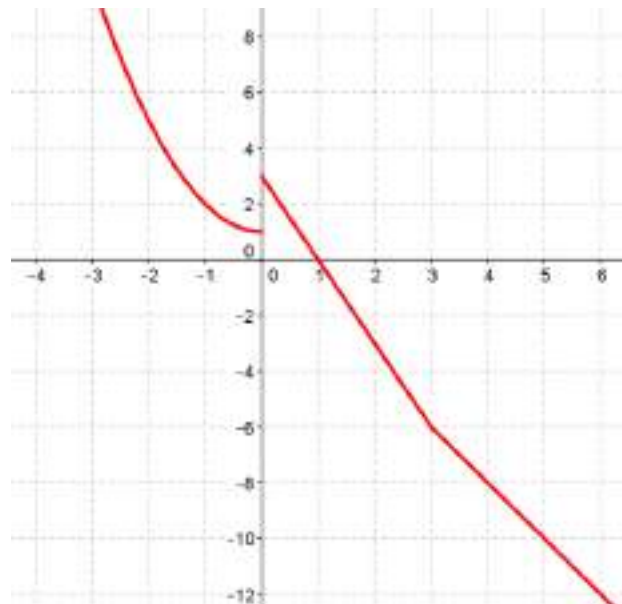
b)  $\lim_{x \rightarrow 0^+} f(x) = 3$       f)  $f(1) = 0$

c)  $\lim_{x \rightarrow 1} f(x) = 0$       g)  $f(3) = -6$

d)  $\lim_{x \rightarrow 3} f(x) = -6$

La función es continua para cualquier número real excepto para  $x = 0$ .

Todo lo anterior puede verse en la gráfica adjunta.



(II) a)  $\lim_{x \rightarrow 0^-} f(x) = -2$       e)  $f(0) = -4$

b)  $\lim_{x \rightarrow 0^+} f(x) = -4$       f)  $f(1) = -3$

c)  $\lim_{x \rightarrow 1} f(x) = -3$       g)  $f(3) = 5$

d)  $\lim_{x \rightarrow 3} f(x) = 5$

La función es continua para cualquier número real excepto para  $x = 0$ .





18. La función dada es discontinua evitable en  $x = -3$  y discontinua no evitable en  $x = 3$ . La redefinimos para  $x = -3$  y queda:

$$F(x) = \begin{cases} \frac{6x + 18}{x^2 - 9} & \text{si } x \neq -3 \\ -1 & \text{si } x = -3 \end{cases}$$

19. a) En este momento hay 4000 águilas. Al cabo de 8 años habrá 7368 águilas y al cabo de 12 años habrá 7556 águilas, es decir, habrá aumentado el número.

b) Calculamos  $\lim_{x \rightarrow +\infty} \left( \frac{16t + 12}{2t + 3} \right) = 8$ , es decir se estabilizará en 8 000 animales.

20. La función beneficio es:  $B(t) = I(t) - G(t) = \frac{60t + 700}{2t^2 + 8}$

Calculamos  $\lim_{x \rightarrow +\infty} \left( \frac{60t + 700}{2t^2 + 8} \right) = 0$ , es decir tienden a anularse.

21. a) La función es continua en  $[0, +\infty)$

b) El 6º año hará un promedio de unas 35 fotocopias por minuto.

c) Calculamos  $\lim_{x \rightarrow +\infty} \left( \frac{12t + 172}{t + 1} \right) = 12$ , es decir, hará 12 fotocopias por minuto, por término medio.

### ACTIVIDADES-PÁG. 235

Dibujamos un triángulo equilátero, dividimos cada lado en tres partes y sobre la parte central, dibujamos otro triángulo equilátero, en el siguiente paso sobre cada uno de los 6 triángulos equiláteros repetimos el proceso e iterando obtenemos esta curva.

Consideramos que el triángulo equilátero inicial tiene de lado a unidades.

NÚMERO DE CURVA	PERÍMETRO	ÁREA
1	3a	$\frac{a^2 \cdot \sqrt{3}}{4}$
2	12a/3	$\frac{a^2 \cdot \sqrt{3}}{4} + 3 \frac{a^2 \cdot \sqrt{3}}{36}$
3	48a/9	$\frac{a^2 \cdot \sqrt{3}}{4} + 3 \frac{a^2 \cdot \sqrt{3}}{36} + 12 \frac{a^2 \cdot \sqrt{3}}{81 \cdot 4}$
4	192a/27	$\frac{a^2 \cdot \sqrt{3}}{4} + 3 \frac{a^2 \cdot \sqrt{3}}{36} + 12 \frac{a^2 \cdot \sqrt{3}}{81 \cdot 4} + 48 \frac{a^2 \cdot \sqrt{3}}{4} + 3 \frac{a^2 \cdot \sqrt{3}}{36} + 12 \frac{a^2 \cdot \sqrt{3}}{729 \cdot 4}$
enésima	$\frac{4^{n-1}}{3^{n-2}} a$	$\frac{a^2 \cdot \sqrt{3}}{4} \left[ 1 + \frac{1}{3} \left( \frac{4}{9} \right)^{n-1} \right]$

Como vemos en la tabla la sucesión de los perímetros es una sucesión geométrica de razón 4/3. Por lo que su

longitud es infinita pues  $\lim_{n \rightarrow +\infty} \frac{4^{n-1}}{3^{n-2}} a = +\infty$ . La sucesión de las áreas es una sucesión geométrica de

razón 4/9. Su superficie es finita pues:  $\lim_{n \rightarrow +\infty} \frac{a^2 \cdot \sqrt{3}}{4} \left[ 1 + \frac{1}{3} \left( \frac{4}{9} \right)^{n-1} \right] = \frac{a^2 \cdot \sqrt{3}}{4}$

La propiedad que tienen estas curvas es que **siendo su longitud infinita encierran una superficie finita.**

La curva *anticopo de nieve* es la que vemos en el dibujo:



Es la configuración opuesta al copo de nieve. Se forma del mismo modo pero metiendo los triángulos hacia adentro.

Se obtienen los mismos resultados que en la anterior y tienen la misma propiedad.